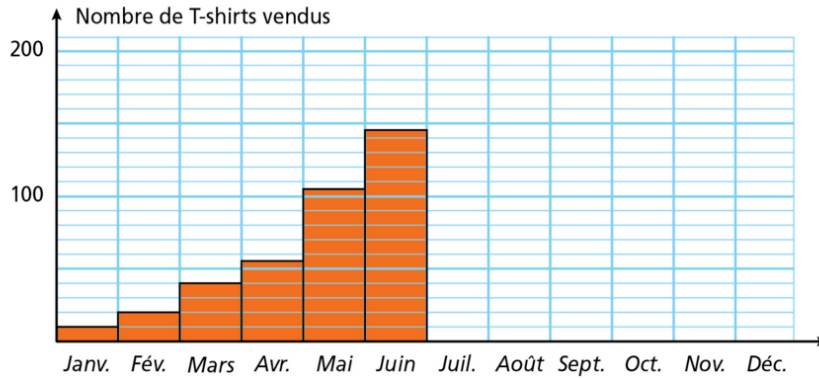


1 Un marchand de vêtements a noté ses ventes de T-shirts dans le tableau ci-dessous. Il a commencé un graphique. Vérifie son travail pour les mois de janvier à juin et termine-le.

Mois	Janv.	Fév.	Mars	Avr.	Mai	Juin	Juil.	Août	Sept.	Oct.	Nov.	Déc.
T-shirts	10	20	40	55	105	145	170	195	135	60	30	45



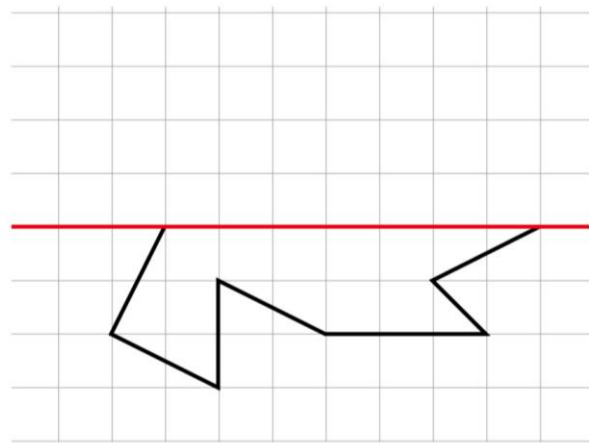
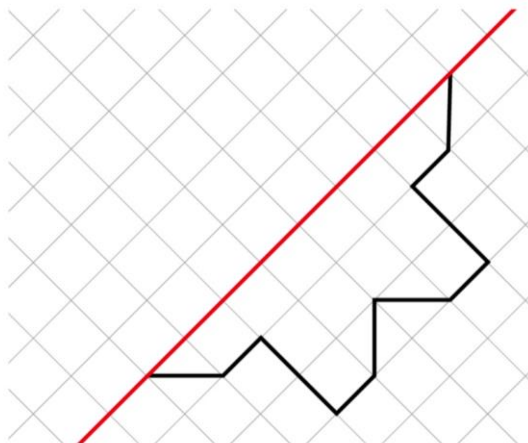
Durant quel mois a-t-il vendu le moins de T-shirts ?

Pourquoi a-t-il vendu très peu de T-shirts durant ce mois ?

Durant quel mois a-t-il vendu le plus de T-shirts ?

Pourquoi a-t-il vendu beaucoup de T-shirts durant ce mois ?

D Complète les figures pour que le trait rouge soit un axe de symétrie.



L'une de ces figures a-t-elle un autre axe de symétrie ? Si c'est le cas, trace-le.