

A Dessine les aiguilles et réponds.

Il est 13 h 30 min.



Dans 25 min, il sera 13 h 55 min.



Il est 17 h 50 min.



Dans 15 min, il sera 18 h 05 min.



B Calcule ces divisions comme Picbille (dessine les centaines, les dizaines et les unités).

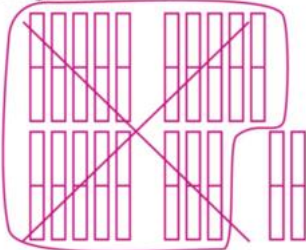
200 : 3 ?

CDU	CDU	CDU
066	066	066

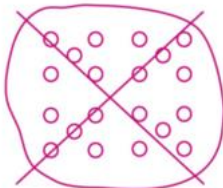
a Partage des centaines :



b Partage des dizaines :



c Partage des unités :



d Expression du résultat :

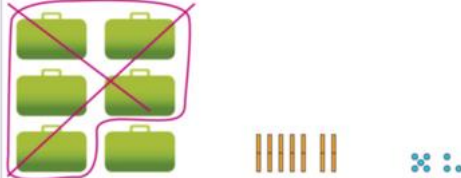
$$200 : 3 ? \quad q = \underline{66} \dots$$

$$r = \underline{2} \dots$$

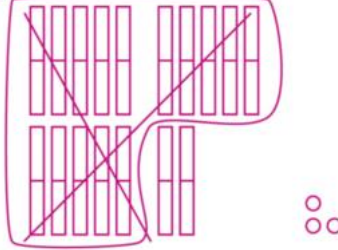
678 : 5 ?

CDU	CDU	CDU	CDU	CDU
135	135	135	135	135

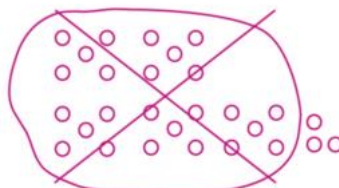
a Partage des centaines :



b Partage des dizaines :



c Partage des unités :



d Expression du résultat :

$$678 : 5 ? \quad q = \underline{135} \dots$$

$$r = \underline{3} \dots$$

Le compte est bon.

41

$$10 \times 3 = 30$$

$$30 + 9 = 39$$

$$39 + 2 = 41$$

85

$$5 \times 3 = 15$$

$$50 \times 2 = 100$$

$$100 - 15 = 85$$

101

$$25 \times 5 = 125$$

$$8 \times 3 = 24$$

$$125 - 24 = 101$$